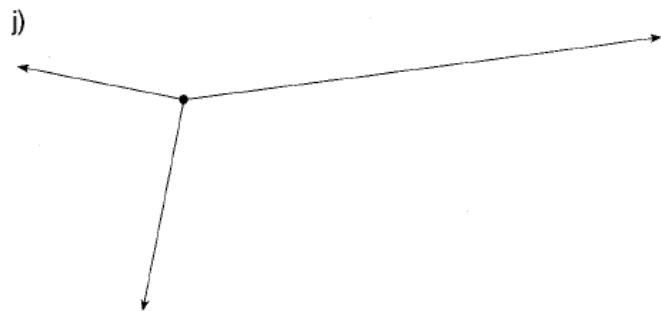
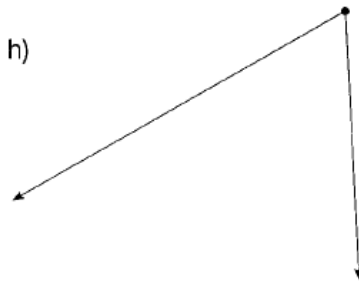
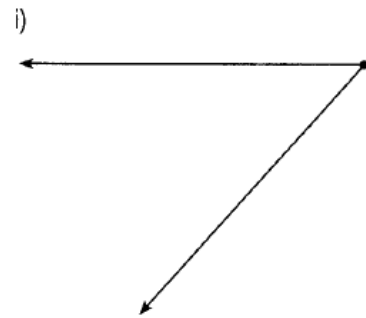
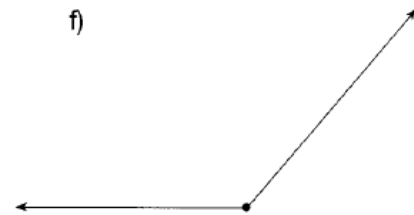
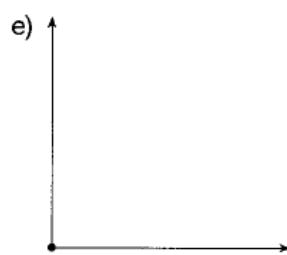
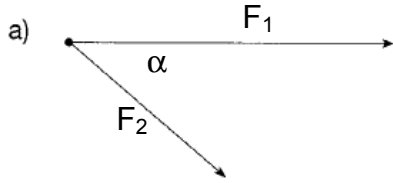




Bestimme jeweils **zeichnerisch** und **rechnerisch** mit Hilfe eines Kräfteparallelogramms die resultierende Kraft F_R . Entnimm für die Berechnung die Größe der angegebenen Kräfte und Winkel aus der Zeichnung (Maßstab: 1cm = 1N).



	a	b	c	d	e	f	g	h	i	j
F_1 in N										
F_2 in N										
α in °										
F_{RZ} in N										
F_{RR} in N										

F_{RZ} ... resultierende Kraft zeichnerisch

F_{RR} ... resultierende Kraft rechnerisch